



โรงเรียนกุหลาบวิทยาลัย

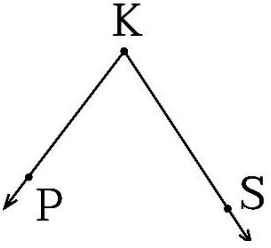
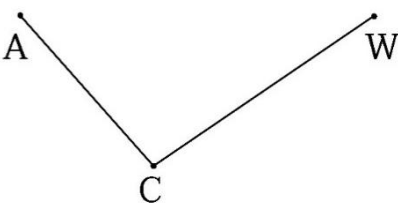
เอกสารประกอบการเรียน เรื่อง มุม

วิชา คณิตศาสตร์ ชั้น ป.4 ภาคเรียนที่ 2 ปีการศึกษา 2564

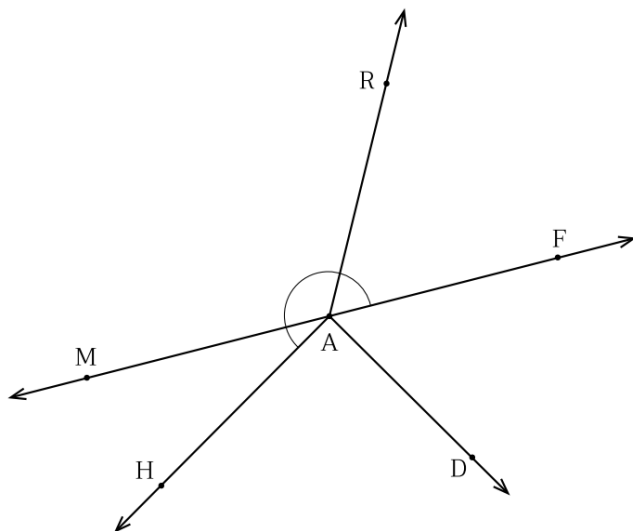
ชื่อ.....ชั้น.....เลขที่.....

กิจกรรมตามตัวชี้วัด ค 2.1 ป.4/2

1. วัดขนาดของมุม บอกชื่อมุมต่อไปนี้

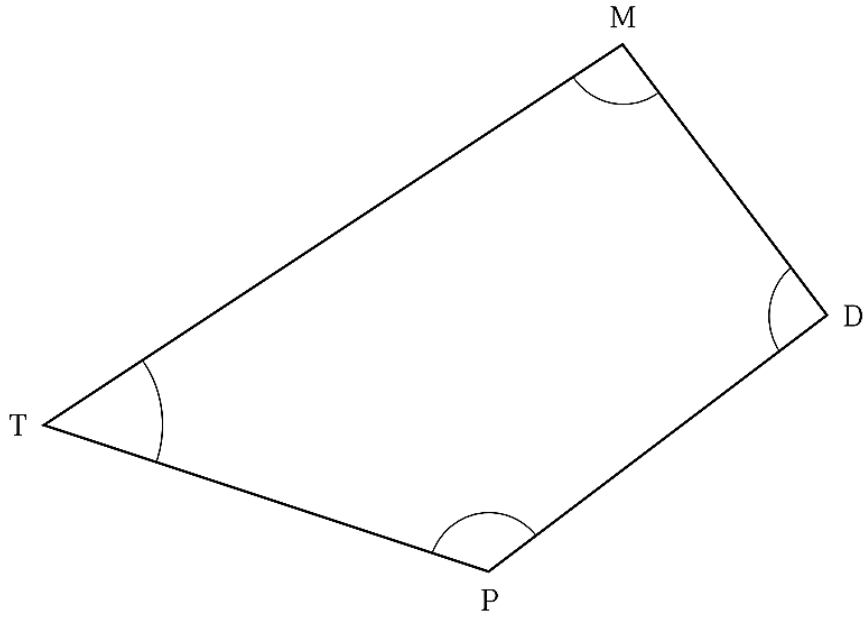
<p>1)</p> 	<p>ชื่อมุม จุดยอดมุม แขนของมุม ชนิดของมุม</p>
<p>2)</p> 	<p>ชื่อมุม จุดยอดมุม แขนของมุม ชนิดของมุม</p>

2. จำแนกชนิดของมุมต่อไปนี้



- 1) มุม MAH เป็นมุม
- 2) มุม MAH เป็นมุม
- 3) มุม MAH เป็นมุม

3. หาขนาดของมุมภายในของรูปสี่เหลี่ยมต่อไปนี้



- 1) มุม TMD มีขนาด
- 2) มุม MDP มีขนาด
- 3) มุม DPT มีขนาด

4. บอกชนิดของมุมพร้อมบอกเหตุผล

ขนาดของมุม	ชนิดของมุม	เหตุผล
1) $m(\widehat{A}) = 296^\circ$		
2) $m(\widehat{A}) = 74^\circ$		



โรงเรียนกุหลาบวิทยาลัย

เอกสารประกอบการเรียน เรื่อง มุม

วิชา คณิตศาสตร์ ชั้น ป.4 ภาคเรียนที่ 2 ปีการศึกษา 2564

ชื่อ.....ชั้น.....เลขที่.....

กิจกรรมตามตัวชี้วัด ค 2.1 ป.4/2

คำชี้แจง สร้างมุมตามที่กำหนดโดยใช้โปรแกรมเตอร์

1) กทิม มีขนาด 123°	3) \widehat{ABC} มีขนาด 90°
2) สวีย มีขนาด 55°	4) \widehat{CAT} มีขนาด 190°
5) \widehat{DEV} มีขนาด 260°	

ภาคเรียนที่ 2 ปีการศึกษา 2564